















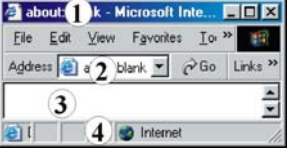
A A A A A

## KİMYACILAR İÇİN BİLGİSAYAR

15.06.2005

BÖLÜMÜ :  
SINIFI :  
ADI SOYADI :  
NUMARASI :

NOT : Sınav iki kısımdan oluşmaktadır. 30 soruluk ilk kısım 70 Puan üzerinden, geri kalan 30 puan lisanskimya sunucusundaki kişisel sayfalarınızın dikkate alınarak değerlendirilecektir.

- D 01. Openwebmailin ayarlarını yapmak için aşağıdaki butonlardan hangisi kullanılır?  
(A)  (B)  (C)  (D) 
- A 02. Openwebmailde yeni mail gelip gelmediğini kontrol etmek için aşağıdaki butonlardan hangisi kullanılır?  
(A)  (B)  (C)  (D) 
- B 03. Secure Shell Client programında File Transfer penceresini hangi buton açar?  
(A)  (B)  (C)  (D) 
- C 04. Aşağıdaki taglardan hangisinde <OLAY></OLAY> şeklinde kullanılmaz?  
(A) <OL> (B) <FONT> (C) <BR> (D) <A>
- B 05. Internet explorer Netscape gibi tarayıcıları yüklenen sayfanın web sayfası olduğunu hangi tag ile bildirilir?  
(A) HEAD (B) HTML (C) TITLE (D) BODY
- A 06.  TITLE tagları arasına eklenmiş yazı yandaki tarayıcı penceresinin neresinde çıkar?  
(A) 1 (B) 2 (C) 3 (D) 4
- C 07. En parlak yeşil ve mavi renkleri elde etmek için sırasıyla aşağıdaki kodlardan hangisi kullanılır?  
(A) 00FF00 ve FF0000 (B) FF0000 ve 0000FF (C) 00FF00 ve 0000FF (D) FF00FF ve FFFF00
- C 08. BODY nin BACKGROUND parametresi hangi amaçla kullanılır?  
(A) arkaplanın rengini değiştirmek için (B) arkaplana ses eklemek için  
(C) arkaplana resim yerleştirmek için (D) arkaplana link eklemek için
- İp 09. Altı çizili ve en büyük şekilde KİMYA aşağıdaki deslerden hangisinde yazılmıştır?  
(A) <FONT SIZE="1"><B>KİMYA</B></FONT> (B) <FONT SIZE="7"><I>KİMYA</I></FONT>  
(C) <H8><I>KİMYA</I></H8> (D) <FONT SIZE="6"><B>KİMYA</B></FONT>
- C 10. Daha önce ziyaret edilmiş sayfa linklerini kırmızı renkli göstermek için aşağıdaki yazım desenlerinden hangisi kullanılmalıdır?  
(A) <body link="red"> (B) <body alink="red"> (C) <body vlink="red"> (D) <body zlink="red">
- C 11. Kelimeler arasına birden fazla boşluk bırakmak için ne yapılabilir?  
(A) çok sayıda &gt; kullanılır. (B) çok sayıda &lt; kullanılır. (C) çok sayıda &nbsp; kullanılır. (D) normal boşluk bırakılır.
- A 12. lisanskimya sunucusunda fl0412 kullanıcı adına sahip bir kullanıcının ana sayfasının doğrudan gelmesi için web sayfası home dizinindeki hangi klasör ve ilk sayfasının adı ne olmalıdır?  
(A) public\_html ve index.html (B) fl0412 ve index.html (C) public ve lisankimya.html (D) public ve index.html

**A A A A A**



D

Yandaki dizin yapısını dikkate alarak web\_sayfam.html içinde resim.gif dosyasının görülmesi için aşağıdakilerden hangisi web sayfasının kodlarında bulunmalıdır?

- (A) <IMG SRC="dizin/resim.gif"> (B) <IMG SRC="alt\_dizin1/daha\_alt\_dizin/resim.gif">  
(C) <IMG SRC="daha\_alt\_dizin/alt\_dizin1/dizin/resim.gif"> (D) <IMG SRC="../../resim.gif">

14. NH<sub>4</sub><sup>+</sup> aşağıdaki desenlerden hangisinde yazıldığı gibi çıkar?

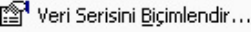
D

- (A) NH<SUB>4</SUB><SUB>+</SUB> (B) NH<SUP>4</SUP><SUB>+</SUB>  
(C) NH<SUP>4</SUP><SUP>+</SUP> (D) NH<SUB>4</SUB><SUP>+</SUP>

15. Bir web sayfasının tarayıcı tarafından kolay yüklenebilmesi dikkat edilmesi gereken en önemli nokta aşağıdakilerden hangisidir?

A

(A) Sayfa ve içinde yer alan resim ve benzeri nesnelere mümkün olduğunca küçük boyutta olması gerekir. (B) Az sayıda bağlantı içermelidir. (C) Sayfanın düşük çözünürlükte hazırlanması gerekir. (D) bilgisayarın hard diski hızlı olmalıdır.

16. 

D

Excelden elde edilmiş yukarıdaki resim ile ilgili olarak aşağıdakilerden hangisi doğrudur?

(A) Veri menüsünün alt menüsünden alınmıştır. (B) Grafik seçiliyken grafik menüsünün alt menüsüdür. (C) Grafikteki çizim alanı alt menüsüdür. (D) Grafik üzerindeki veri serisine sağ tıklanarak elde edilmiştir.

17. A1 hücresinin içerisinde =A2+\$A3 yazmaktadır. A1 hücresi C2 hücresine kopyalanırsa C2 hücresi içerisinde aşağıdaki formüllerden hangisi görülür?

A

- (A) =C3+\$A4 (B) =A2+\$A3 (C) =C3+\$C4 (D) =A2+\$C4

18. Aşağıdakilerden hangisi biçimlendirme araç çubuğundaki sembollerden biri değildir?

A

- (A)  (B) **K** (C)  (D) 

C

19. Aşağıdakilerden hangisi A1 hücresinde yer alan öğrenci numaranızın son iki rakamını alır?

- (A) =SAĞDAN(A16;11;2) (B) =SOLDAN(A16;2) (C) =PARÇAAL(A1;11;2) (D) =METİN(A16;2)

A

20. Aşağıdakilerden hangisinde pi sayısının değeri 3.14 alınmıştır?

- (A) =YUVARLA(Pİ();2) (B) =AŞAĞIYUVARLA(Pİ();3) (C) =YUKARIYUVARLA(Pİ();2) (D) =TAMSAYI(Pİ();3)

21. 06.06.2005 tarihinin pazartesi olup olmadığını anlamak için aşağıdakilerden hangisi kullanılabilir?

D

- (A) =TARİHSAYISI("06.06.2005";2) (B) =GÜN360("06.06.2005";2)  
(C) =GÜN("06.06.2005";2) (D) =HAFTANINGÜNÜ("06.06.2005";2)

22. A2-A9 aralığında bir grup veri bulunmaktadır. Verilerin ortalama değerlerini ve ortalamadan sapmalarıyla örn. 8.5 ±0.5 formatında göstermek için aşağıdaki formüllerden hangisini kullanabilirsiniz?

D

- (A) =ORTALAMA(A2:A9) ± "STDSAPMA(A2:A9) (B) =ORTALAMA(A2:A9)&" ± "&STDSAPMA(A2:A9)  
(C) =ORTALAMA(A2:A9) ± ORTSAP(A2:A9) (D) =ORTALAMA(A2:A9)&" ± "&ORTSAP(A2:A9)

23. A2-A8 aralığında zaman (t), B2-B8 aralığında konsantrasyonların (C), logaritmaları bulunmaktadır. LogC=at+b eşitliği olduğunu düşünerek a değerini aşağıdakilerden hangisi ile hesaplayabilirsiniz?

B

- (A) =EĞİM(A2:A8;B2:B8) (B) =EĞİM(B2:B8;A2:A8)  
(C) =KESMENOKTASI(B2:B8;A2:A8) (D) =KESMENOKTASI(A2:A8;B2:B8)

24. Öğrencilerin final ve ortalamalarına bakarak geçer veya kalır yazdırmak için aşağıdaki formüllerden hangisi kullanılmalıdır?

D

- (A) =(VE(A2>=60;B2>=60);"Geçer";"Kalır") (B) =(YADA(A2>=60;B2>=60);"Geçer";"Kalır")  
(C) =EĞER((YADA(A2>=60;B2>=60)));"Geçer";"Kalır") (D) =EĞER((VE(A2>=60;B2>=60)));"Geçer";"Kalır")

25. Düzen menüsündeki temizle seçeneği ile aşağıdakilerden hangisi yapılamaz?

A

(A) Seçilen hücre silinir ve seçime göre alttaki veya sağdaki hücre temizlenen hücrenin yerine geçebilir. (B) Seçilen Hücre içindeki açıklamalar silinebilir. (C) Seçilen hücrenin içeriği silinebilir. (D) Seçilen hücrenin biçimleri silinebilir.

B

26. Ekle menüsünde aşağıdakilerden hangisi yoktur?

- (A) Satır (B) Dış Veri Al (C) Nesne (D) Açıklama

A

27. Veri menüsünde aşağıdakilerden hangisi yoktur?

- (A) Koşullu biçimlendirme (B) Sırala (C) Süz (D) Doğrulama

C

28. Araçlar menüsünde aşağıdakilerden hangisi yoktur?

- (A) Hedef Ara (B) Koruma (C) Grafik (D) Denetleme

C

29. B2 hücresinin bulunduğu yere formül yazıldıktan sonra RIC1 başvuru stiline geçildiğinde formül =R[-1]C[-1]+R[1]C[1] şeklinde görülmüştür. B2 hücresine yazılan formül aşağıdakilerden hangisidir?

- (A) =A1+A3 (B) =C1+C3 (C) =A2+C4 (D) =B1+D5

C

30. Radyo Düğmesi ve onay kutusu gibi butonlar aşağıdaki araç çubuklarından hangisinde bulunur?

- (A) Pano (B) Dış Veri (C) Form (D) Özel Tablo

**A A A A A**

*Sınav Süresi 40 dakıkadır.*

*Başarılar*